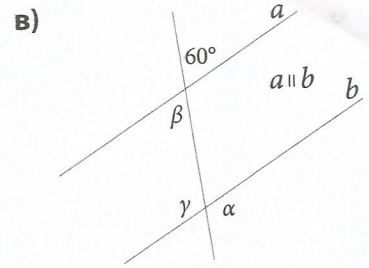
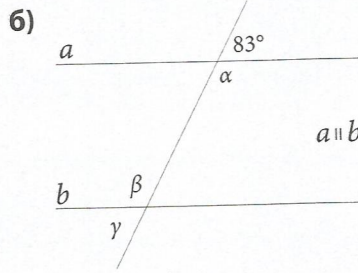
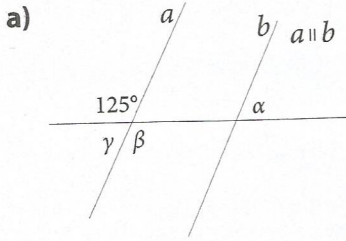
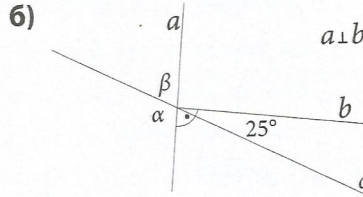
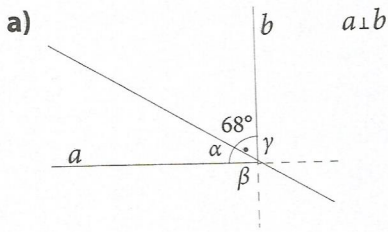


12. Одреди ги непознатите агли, α , β и γ , на цртежот, ако правите a и b се паралелни.



13*. Одреди ги непознатите агли, ако правите a и b се заемно нормални. Две прави се заемно нормални ако се сечат под прав агол.



8.2 Накрсни агли

Во задачите од 1 до 5 одреди ги непознатите агли на цртежите.

